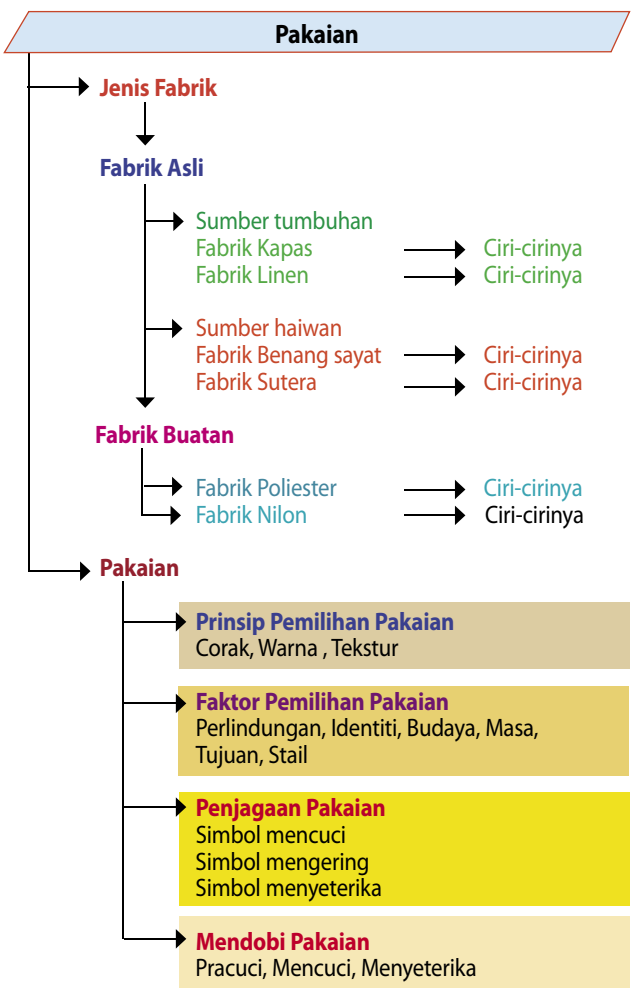


Ekonomi Rumah Tangga

Oleh Zalima M

Minggu ini kita akan membincangkan mengenai bahagian elektif Ekonomi Rumah Tangga di bawah tajuk - Pakaian. Bagi memudahkan calon membuat ulang kaji di sini diringkaskan isi kandungan bagi tajuk ini dalam bentuk peta minda.

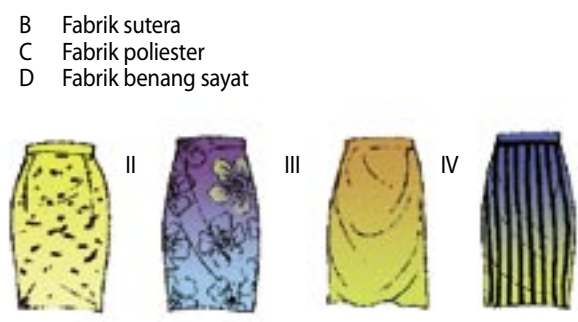


Soalan Latihan

- Antara berikut yang manakah fabrik asli?
 - I Fabrik linen
 - II Fabrik Nilon
 - III Fabrik Sutera
 - IV Fabrik Poliester
 - A I dan II
 - B I dan III
 - C II dan III
 - D III dan IV
 - Antara berikut yang manakah merupakan fabrik buatan manusia?
 - I Kapas
 - II Linen
 - III Nilon
 - IV Poliester
 - A I dan II
 - B I dan III
 - C II dan III
 - D III dan IV
- Rosak pada suhu tinggi
 - Mudah renyuk
 - Daripada bulu kambing biri-biri

Jadual 1

- Pernyataan dalam Jadual 1 merujuk kepada fabrik?
 - A Fabrik kapas



Rajah 1

- Berdasarkan Rajah 1, fesyen pakaian yang manakah sesuai bagi Puan Hafsa yang mempunyai bentuk badan gempal dan rendah?
 - A I, II dan III
 - B I, II dan IV
 - C I, III dan IV
 - D II, III dan IV



Rajah 2

- Rajah 2 menunjukkan simbol Label Jagaan Tekstil Antarabangsa. Apakah maksud simbol tersebut?
 - A Pakaian boleh kering di ampai
 - B Pakaian boleh dicuci dengan tangan
 - C Pakaian tidak boleh dicuci dengan tangan
 - D Pakaian boleh dibalik-balikkan dengan tangan
- Antara berikut corak yang manakah sesuai bagi bentuk badan yang kurus dan tinggi?
 - I Fabrik bercorak bunga besar
 - II Fabrik bercorak jalur menegak
 - III Fabrik bercorak jalur melintang
 - V Fabrik bercorak bunga kecil
 - A I dan II
 - B I dan III
 - C II dan III
 - D II dan IV

Jawapan	Simbol
A	
B	
C	
D	

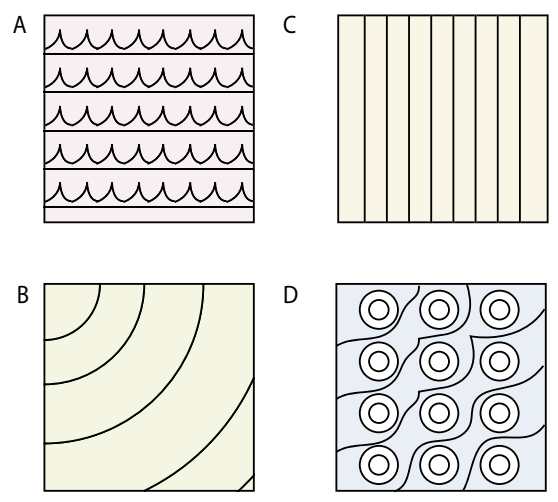
- Antara berikut, yang manakah tidak benar bagi padanan simbol label jagaan tekstil antarabangsa?

Jawapan	Simbol	Keterangan
A		Mengering
B		Mencuci kering
C		Menyeterika
D		Mencuci

Orang yang rendah dan gemuk kelihatan tinggi dan langsing

Jadual 2

- Berdasarkan pernyataan dalam Jadual 2 yang manakah corak yang sesuai di gunakan?



- Orang yang berbadan tinggi dan gempal sesuai memakai bentuk leher berbentuk?
 - A Berkolar
 - B Berbentuk V
 - C Berbentuk bulat
 - D Berbentuk empat segi
- Antara bahan yang sesuai digunakan bagi menghilangkan kesan dakwat pada pakaian ialah
 - A turpentin
 - B garam dan limau
 - C sabun dan air suam
 - D cuci dengan sabun dan jemur
- Antara berikut yang manakah merupakan prinsip dalam pemilihan pakaian?
 - I Corak
 - II Warna
 - III Tekstur
 - IV Rupa fabric
 - A I dan II
 - B II dan IV
 - C I, II dan III
 - D I, II, III dan IV

